

東京書籍 1年

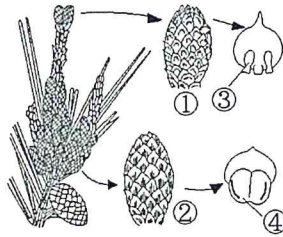
植物の世界 P26～P28




個別指導TAKUMI塾

問 次の問いに答えよ。

(1) 右の図の①～④の名称を答えよ。



①



②




③



④



(2) マツの雄花で、花粉をつくるふくろがついている場所を何というか。



(3) マツの雌花のりん片、雄花のりん片はそのはたらきから考えて、アブラナの何にあたるか。



(4) 裸子植物の花では被子植物と異なり何がむき出しになっているか。



(5) 裸子植物の花には、花弁、がく、子房などがあるか、ないか。



(6) タンポポの花にあつて、マツの花にないものは何か。3つ答えよ。



(7) 裸子植物では、花粉は直接胚珠につくことができるか、できないか。



(8) 秋に、まつかさのりん片をはがすと何のついた種子を見ることができるか。



東京書籍 1年

植物の世界 P26～P28

個別指導TAKUMI塾

- | | |
|--------------------------------|----------------------|
| (1) ① 雌花 ② 雄花 ③ 胚珠
④ 花粉のう | [21-02-01-03-0003] |
| (2) りん片 | [21-02-01-03-0004] |
| (3) 雌花…めしべ, 雄花…おしべ | [21-02-01-03-0005] |
| (4) 胚珠 | [21-02-01-03-0007] |
| (5) ない | [21-02-01-03-0008] |
| (6) 子房, 花びら, がく | [21-02-01-03-0009] |
| (7) できる | [21-02-01-03-0010] |
| (8) はね | [21-02-01-03-0011] |