


教育出版 地理
1編1章 P18～P21




個別指導TAKUMI塾


問 次の問いに答えよ。

- (1) 地球を小さく縮めた模型を何というか。
- (2) 地球の北の半分を何というか。
- (3) 地球の南の半分を何というか。
- (4) 地球上の大陸や島の形を平面に表したものを何というか。
- (5) 次の都市のうち、日本から最も遠いのはどれか。
(ケープタウン、ペキン、カイロ、ニューヨーク)
- (6) 次の都市のうち、日本に最も近いのはどれか。
(シドニー、ニューヨーク、ロンドン、カイロ)
- (7) 次の都市のうち、東京から見てほぼ真東の方向にあるのはどれか。
(ニューヨーク、ブエノスアイレス、ブラジリア、ロンドン)
- (8) 地球儀や世界地図の上にひかれている、赤道に平行な線を何というか。
- (9) 地球儀や世界地図の上にひかれている、北極と南極を結ぶ線を何というか。
- (10) ロンドンのグリニッジ天文台跡を通る経度0度の線を特に何というか。
- (11) 地球を北半球と南半球に分ける緯度0度の線を特に何というか。
- (12) 夏至のころの高緯度地方に見られる、太陽が深くしずまないため、うす明るい状態を何というか。
- (13) ある地点が赤道から南北にどのくらい離れているかを示す点を何というか。



























教育出版 地理

1編1章 P18～P21

個別指導TAKUMI塾

(14) イギリスのロンドンの旧グリニッジ天文台を通る線を基準としてある地点から東西にどれだけ離れているかを示す点を何と
いうか。



(15) 次の国々のうち、日本から最も遠い国はどれか。
(インド、ドイツ、ブラジル、ニュージーランド)




(16) 次の中から、日本に最も近い国を選べ。
(大韓民国、中華人民共和国、アメリカ合衆国)



(17) 次の国々のうち、日本とほぼ同じ経度にある国はどれか。
(インド、メキシコ、イタリア、オーストラリア)



(18) 次の国々のうち、日本と同じ緯度の国を2つ選び、下の□の中
に答えよ。
(パナマ、イタリア、オーストラリア、アメリカ合衆国、タイ)



教育出版 地理

1編1章 P18～P21

個別指導TAKUMI塾

(1) 地球儀	[01-01-01-01-0001]
(2) 北半球	[01-01-01-01-0005]
(3) 南半球	[01-01-01-01-0006]
(4) 世界地図(地図)	[01-01-01-01-0007]
(5) ケープタウン	[01-01-01-01-0009]
(6) シドニー	[01-01-01-01-0010]
(7) ブエノスアイレス	[01-01-01-01-0011]
(8) 緯線	[01-01-01-04-0001]
(9) 経線	[01-01-01-04-0002]
(10) 本初子午線	[01-01-01-04-0007]
(11) 赤道	[01-01-01-04-0008]
(12) 白夜	[01-01-01-04-0011]
(13) 緯度	[01-01-01-04-0015]
(14) 経度	[01-01-01-04-0016]
(15) ブラジル	[01-01-02-02-0001]
(16) 大韓民国	[01-01-02-02-0002]
(17) オーストラリア	[01-01-02-02-0021]
(18) イタリア, アメリカ合衆国	[01-01-02-02-0024]